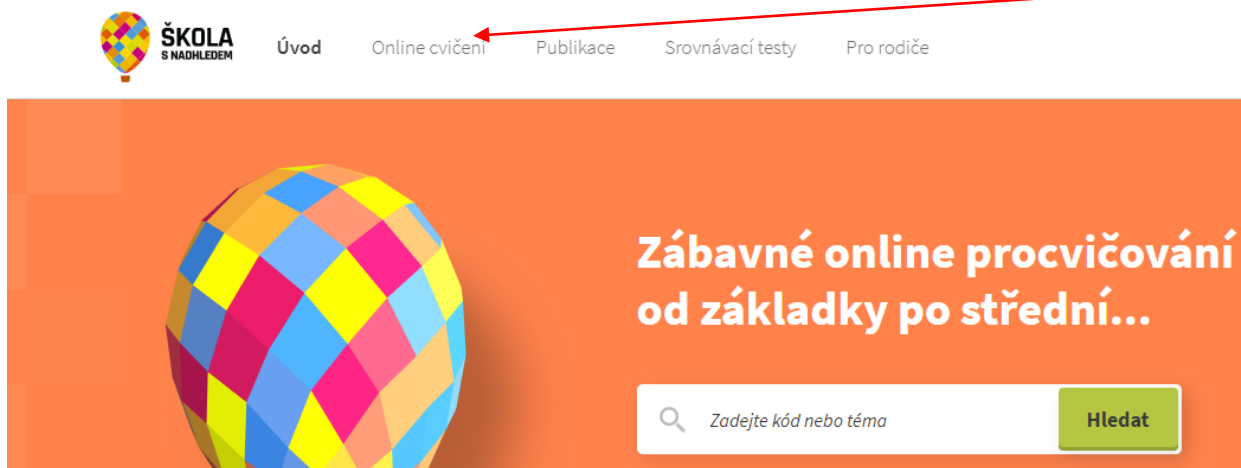


Fyzika 8 5. týden

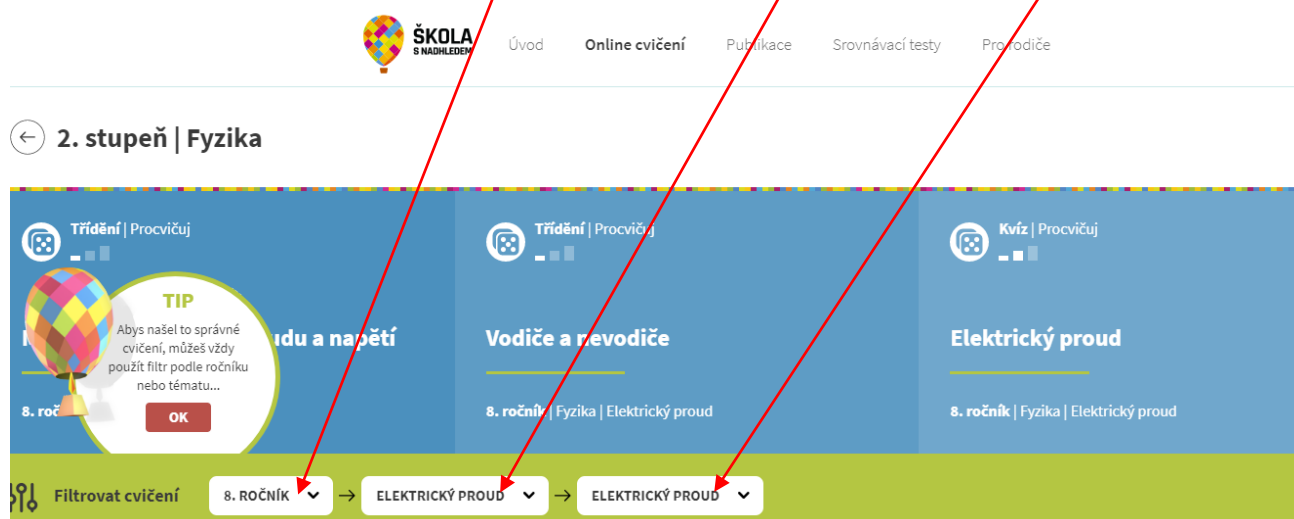
Na stránkách **SKOLASNADHLEDEM.CZ** (nakladatelství Fraus) klikni na **Online cvičení**



Vyber ze 4 možností **2. stupeň** a vyber předmět **Fyzika**



Filtrem ve spodní části vyber **ročník 8.**, téma **Elektrický proud**, podtéma **Zdroje elektrického napětí**, poté **Elektrický proud**, vyřeš daná cvičení.



VŠE FUNGUJE ZDARMA A BEZ JAKÉKOLIV REGISTRACE.

AŤ SE VÁM DAŘÍ 😊

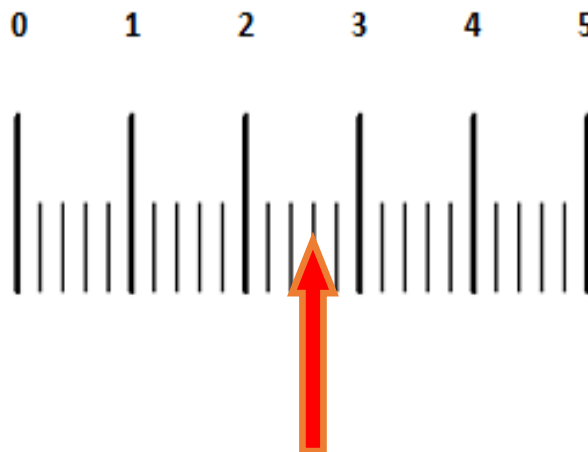
Tato strana je určena jen pro ty, kdo nejsou přihlášení do Microsoft Teams (online výuka).

Kdo se přihlásí do online výuky, najde následující cvičení v Zadání.

F8 Procvičení 1 Elektrický obvod

Na obrázku je stupnice ampérmetru, urči:

a) měřicí rozsah	5 A
b) nejmenší dílek	
c) odchylku měření	
d) hodnotu proudu	$I =$



Údaje doplň do 2. sloupce.

Nezapomeň, u každého údaje musí být jednotka!

Nápověda (odchylka měření je půlka nejmenšího dílku).

Na obrázku je stupnice voltmetru, urči:

a) měřicí rozsah	
b) nejmenší dílek	
c) odchylku měření	
d) hodnotu napětí	$U =$

